

ΕΡΓΑΣΤΗΡΙΑΚΗ ΑΣΚΗΣΗ 3

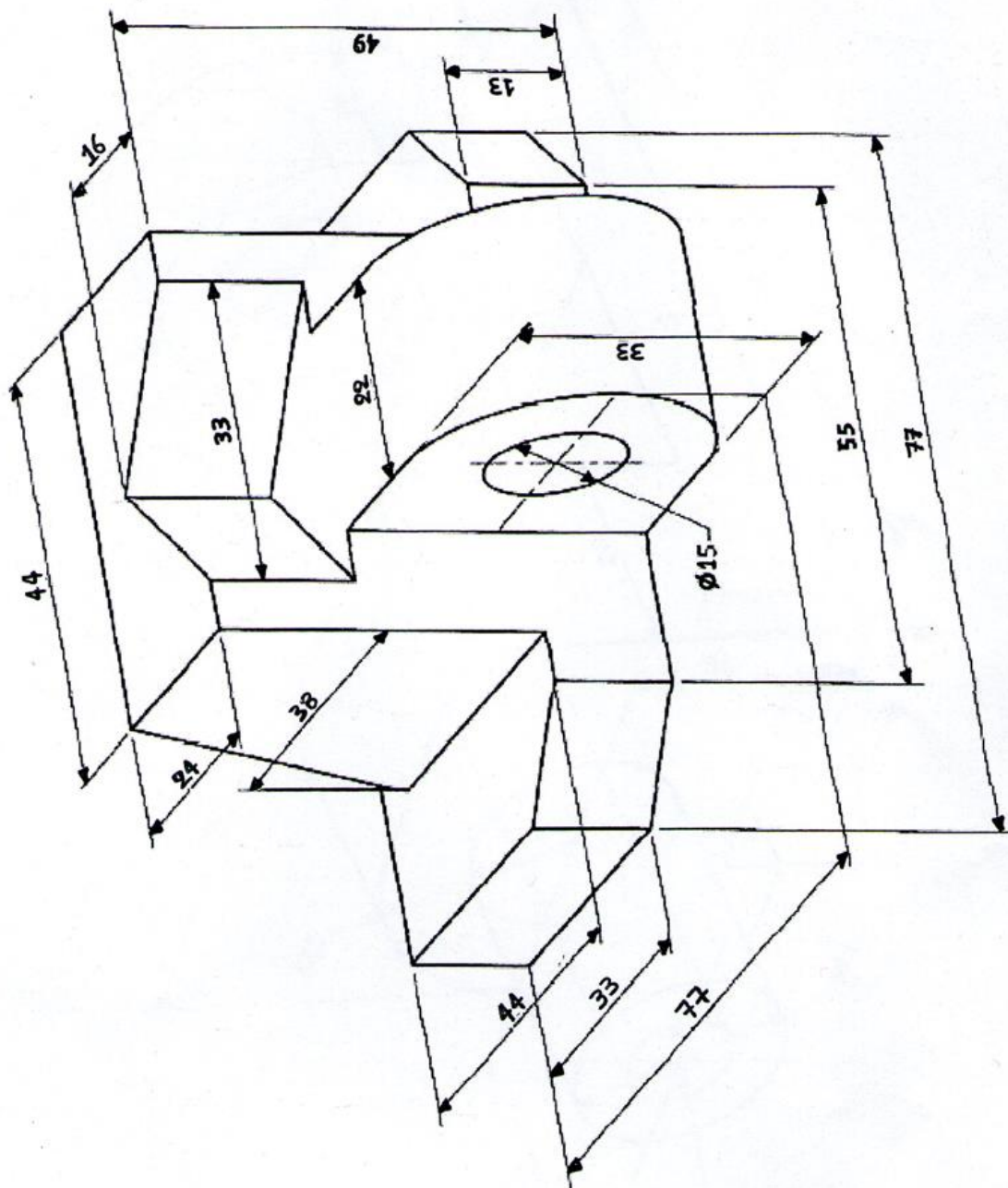
Το θέμα αυτό αποτελεί άσκηση στην επιλογή, σχεδίαση όψεων και διαστασιολόγηση απλών μηχανολογικών εξαρτημάτων.

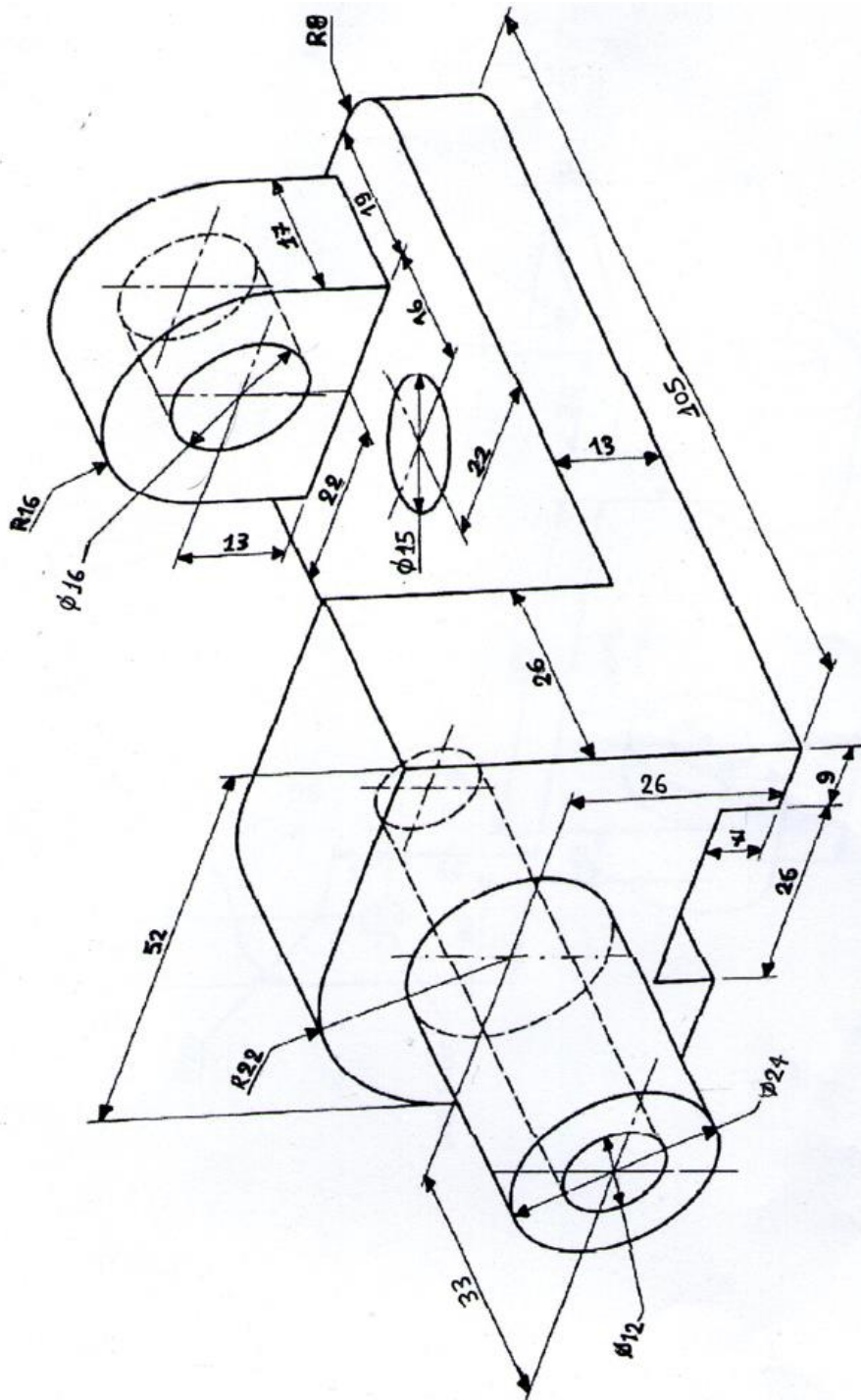
Δίδονται τα αξονομετρικά σχέδια τριών μηχανολογικών εξαρτημάτων, που περιλαμβάνουν διάφορες εσωτερικές και εξωτερικές διαμορφώσεις.

Ζητείται η επιλογή της πρόοψης και των απαραίτητων όψεων, η σχεδιάσή τους και η διαστασιολόγηση των όψεων σύμφωνα με τους κανονισμούς.

Το θέμα θα σχεδιασθεί με μολύβι στο τετράδιο σκαριφημάτων στην τάξη.

Ακολουθώς, στο σπίτι θα γίνει σχεδίαση με μολύβι κάθε αντικειμένου σε ξεχωριστό φύλλο χαρτιού μεγέθους Α3, στο οποίο θα έχει περιληφθεί περίγραμμα και υπόμνημα.

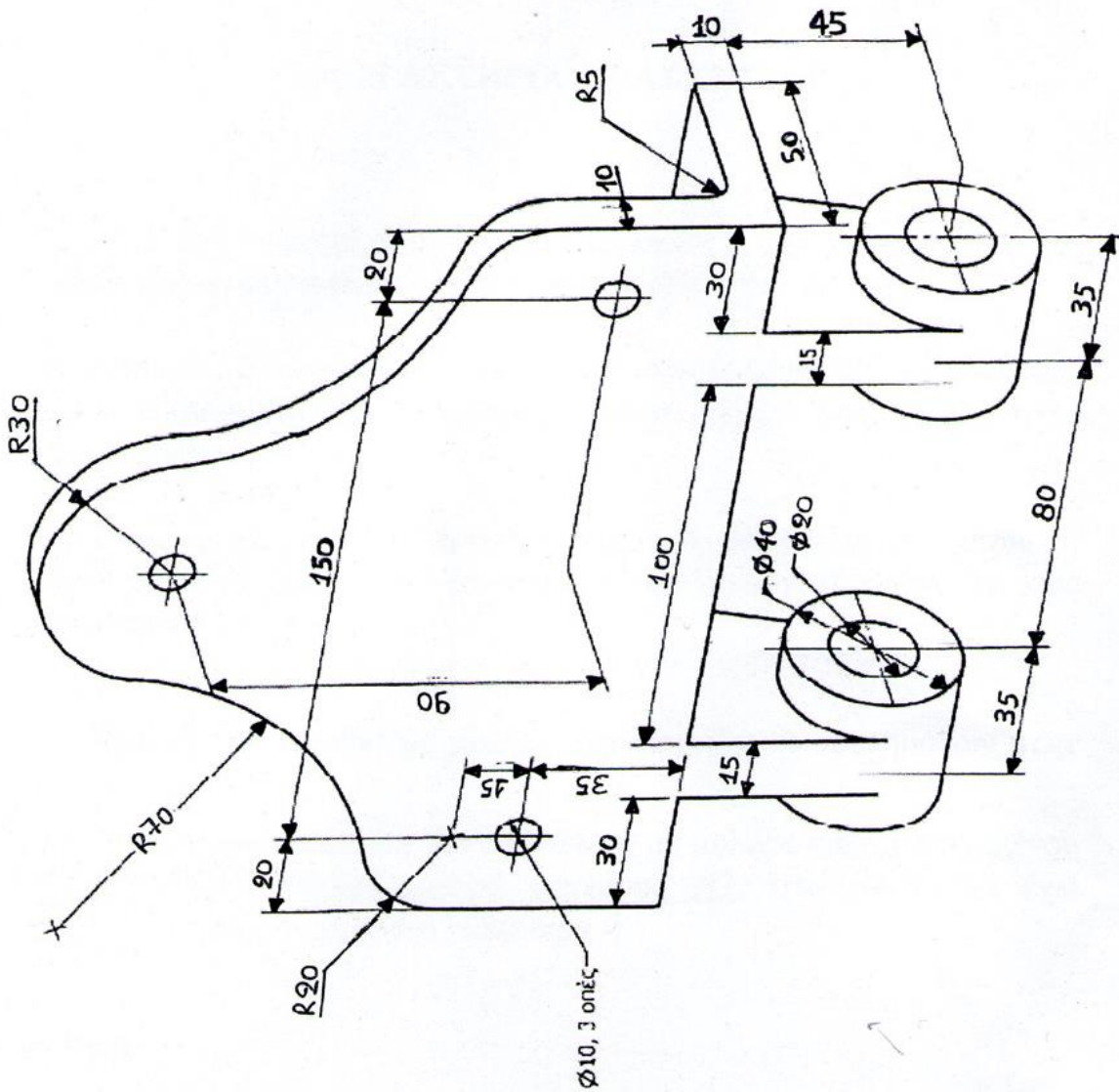




ΠΑΝΕΠΙΣΤΗΜΙΟ ΔΥΤΙΚΗΣ ΑΤΤΙΚΗΣ
 ΣΧΟΛΗ ΜΗΧΑΝΙΚΩΝ
 ΤΜΗΜΑ ΝΑΥΠΗΓΩΝ ΜΗΧΑΝΙΚΩΝ

ΟΥΕΙΣ, ΔΙΑΣΤΑΣΙΟΛΟΓΗΣΗ
 ΜΗΧΑΝΟΛΟΓΙΚΩΝ
 ΕΞΑΡΤΗΜΑΤΩΝ

Αρ. Σχ.
 3.2



ΠΑΝΕΠΙΣΤΗΜΙΟ ΔΥΤΙΚΗΣ ΑΤΤΙΚΗΣ
 ΣΧΟΛΗ ΜΗΧΑΝΙΚΩΝ
 ΤΜΗΜΑ ΝΑΥΠΗΓΩΝ ΜΗΧΑΝΙΚΩΝ

ΟΥΕΙΣ, ΔΙΑΣΤΑΣΙΟΛΟΓΗΣΗ
 ΜΗΧΑΝΟΛΟΓΙΚΩΝ
 ΕΞΑΡΤΗΜΑΤΩΝ

Αρ. Σχ.
 3.3